

2010年度 第1問 問4

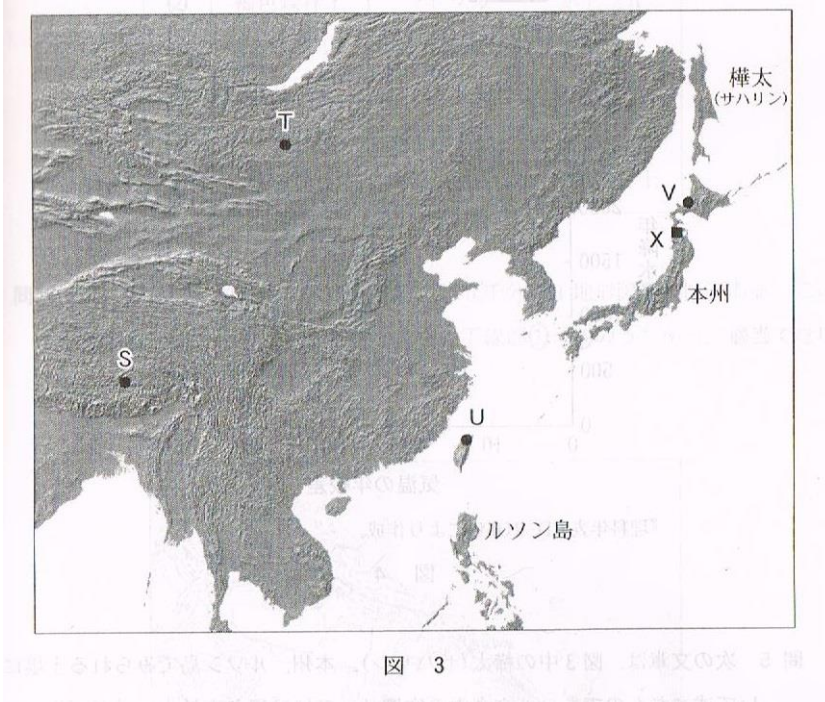
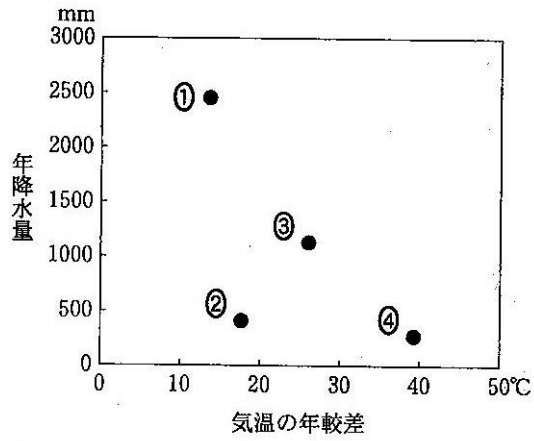


図 3

問 4 次の図 4 中の①～④は、図 3 中の S～V のいずれかの地点における気温の年較差と年降水量を示したものである。S に該当するものを、図 4 中の①～④のうちから一つ選べ。 4



『理科年表 CD-ROM』により作成。

図 4

2005年度 第3問 問3

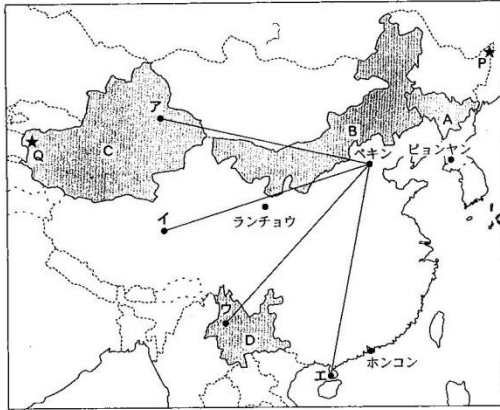
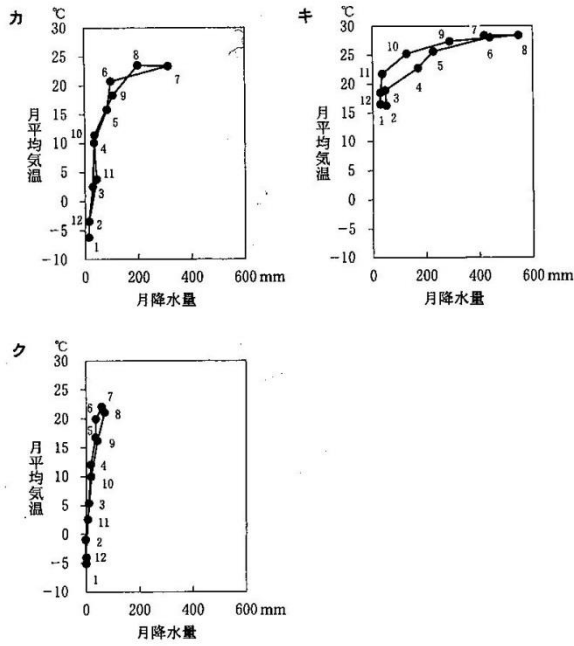


図 1

問 3 次の図3中のカ〜クは、図1中のピョンヤン、ホンコン、ランチョウのいずれかの都市における月平均気温と月降水量をハイサーグラフで示したものである。カ〜クと都市名との正しい組合せを、次ページの①〜⑥のうちから一つ選べ。

17



『理科年表』により作成。

図 3

	カ	キ	ク
①	ピョンヤン	ホンコン	ランチョウ
②	ピョンヤン	ランチョウ	ホンコン
③	ホンコン	ピョンヤン	ランチョウ
④	ホンコン	ランチョウ	ピョンヤン
⑤	ランチョウ	ピョンヤン	ホンコン
⑥	ランチョウ	ホンコン	ピョンヤン

2007年度 第6問 問1

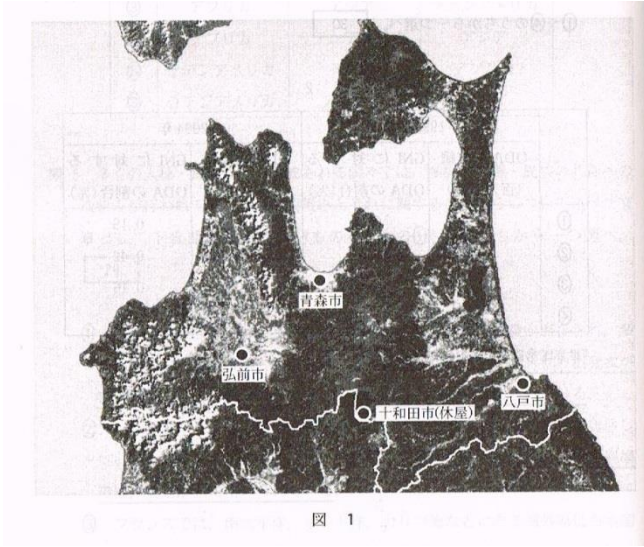
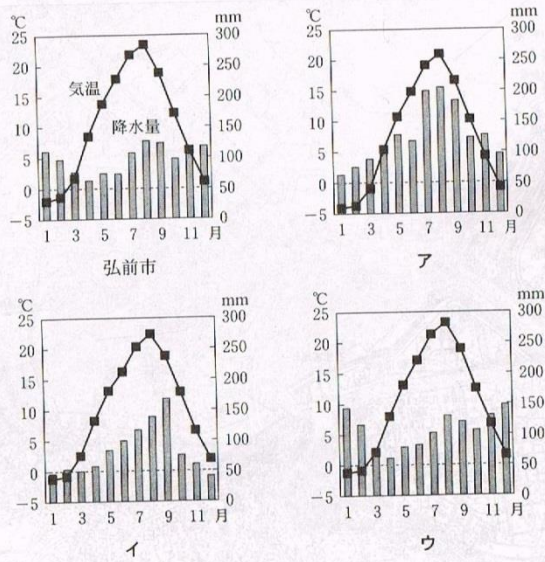


図 1

問 1 カナさんは、八戸市の気候の特徴を調べるため、青森市、十和田市(休屋)、弘前市と比較してみた。次の図2は、これら4地点の月平均気温と月降水量を示したものであり、ア～ウは、青森市、十和田市、八戸市のいずれかである。ア～ウと地点名との正しい組合せを、下の①～⑥のうちから一つ選べ。

31



気象庁の資料により作成。

図 2

	①	②	③	④	⑤	⑥
ア	青森市	青森市	十和田市	十和田市	八戸市	八戸市
イ	十和田市	八戸市	青森市	八戸市	青森市	十和田市
ウ	八戸市	十和田市	八戸市	青森市	十和田市	青森市