

2007年度 第1問 問3, 4

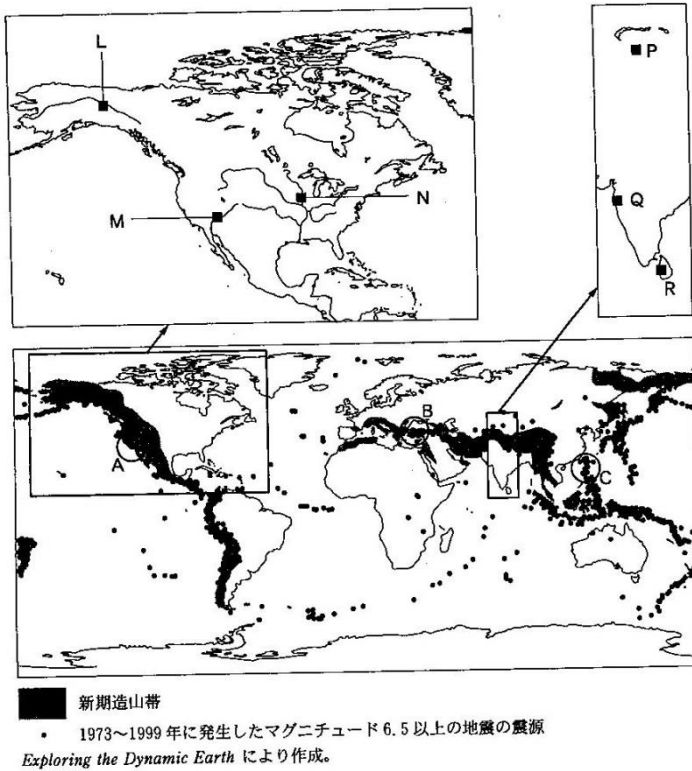
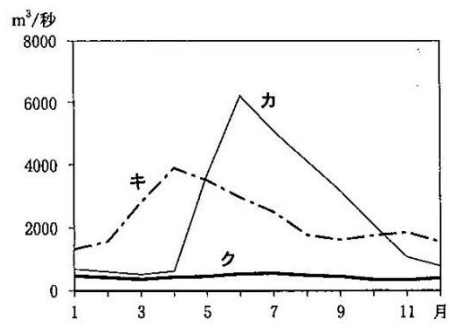


図 1

問 3 河川の流量の変化は、流域の気候の影響を受ける。次の図 2 中のカ～クは、図 1 中の L～N のいずれかの地点における月平均流量を示したものである。カ～クと L～N との正しい組合せを、下の ①～⑥ のうちから一つ選べ。

3

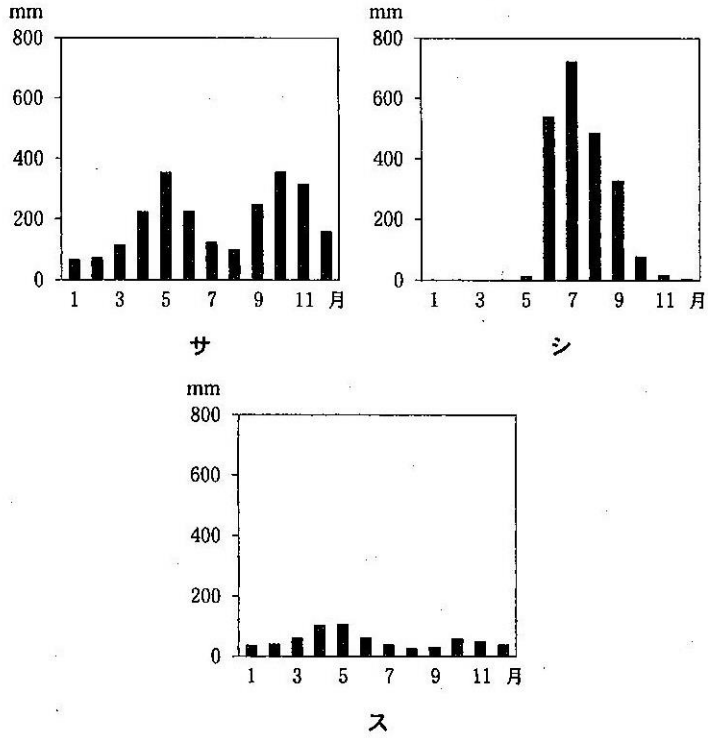


統計年次は 1971～2000 年。一部欠測値を含む。
 GRDC の資料により作成。

図 2

	①	②	③	④	⑤	⑥
カ	L	L	M	M	N	N
キ	M	N	L	N	L	M
ク	N	M	N	L	M	L

問 4 アジアでは、モンスーンの影響により降水量に季節的な変化がみられる地域がある。次の図3中のサ～スは、図1中のP～Rのいずれかの地点における月降水量を示したものである。サ～スとP～Rとの正しい組合せを、下の①～⑥のうちから一つ選べ。 4



統計年次は1971～2000年。NOAAの資料により作成。

図 3

	①	②	③	④	⑤	⑥
サ	P	P	Q	Q	R	R
シ	Q	R	P	R	P	Q
ス	R	Q	R	P	Q	P