

2008年度 第1問 問1

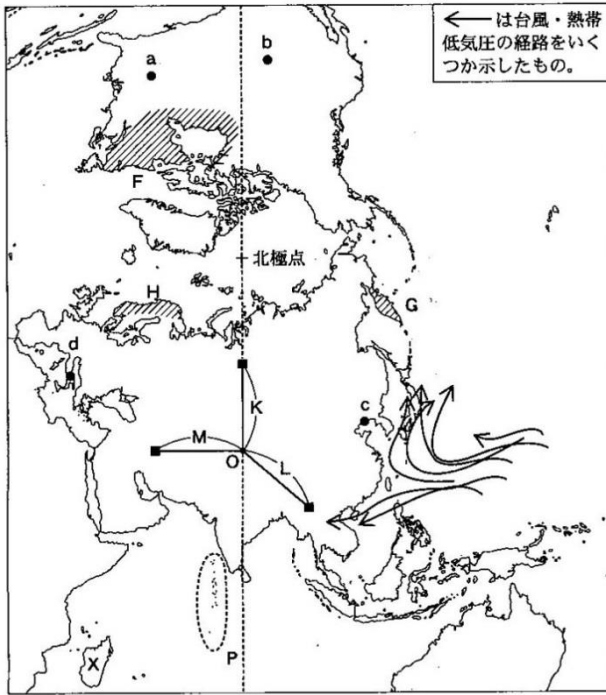
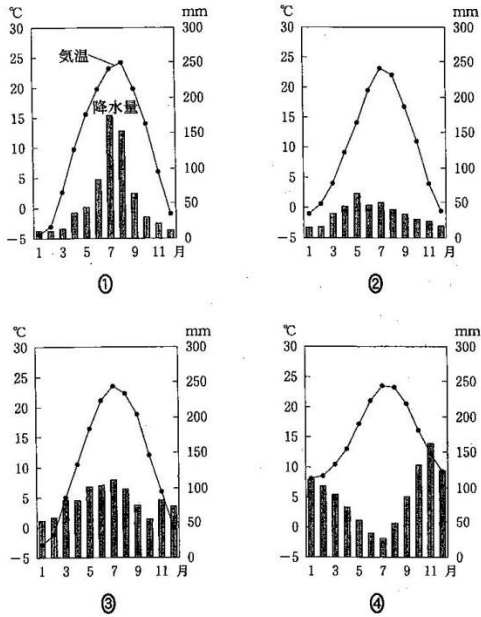


図 1

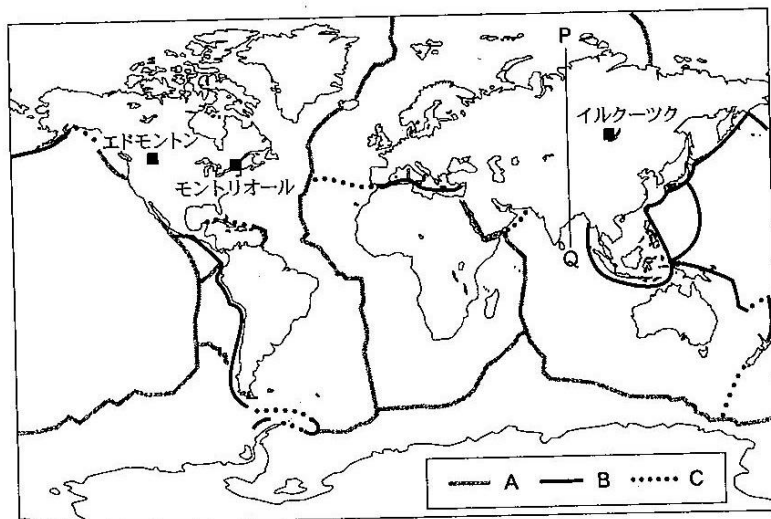
問 1 次の図2は、図1中のほぼ同緯度に位置するa～dのいずれかの地点における月平均気温と月降水量を示したものである。dに該当するものを、図2中の①～④のうちから一つ選べ。



『理科年表』により作成。

図 2

2006年度 第3問 問3

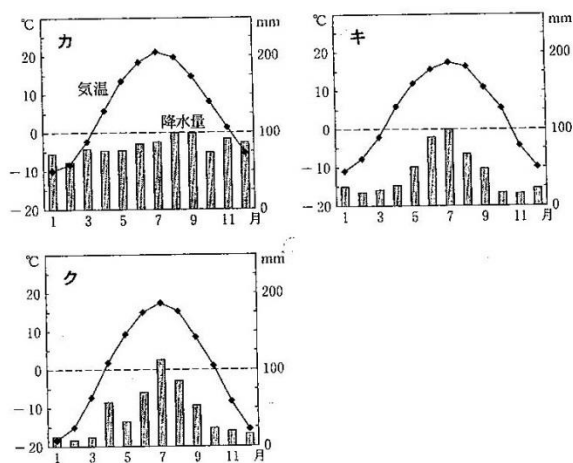


The Times Concise Atlas of the World などにより作成。

図 1

問 3 次の図3中のカ〜クは、図1中のイルクーツク、エドモントン、モントリオールのいずれかの都市における月平均気温と月降水量を示したものである。カ〜クと都市名との正しい組合せを、下の①〜⑥のうちから一つ選べ。

14



『理科年表』により作成。

図 3

	カ	キ	ク
①	イルクーツク	エドモントン	モントリオール
②	イルクーツク	モントリオール	エドモントン
③	エドモントン	イルクーツク	モントリオール
④	エドモントン	モントリオール	イルクーツク
⑤	モントリオール	イルクーツク	エドモントン
⑥	モントリオール	エドモントン	イルクーツク