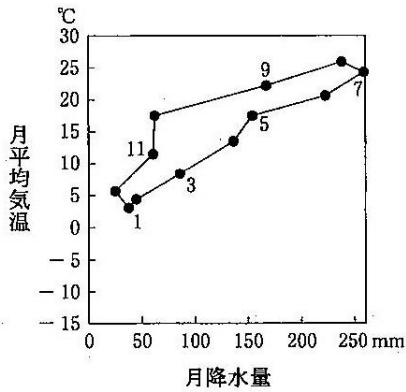
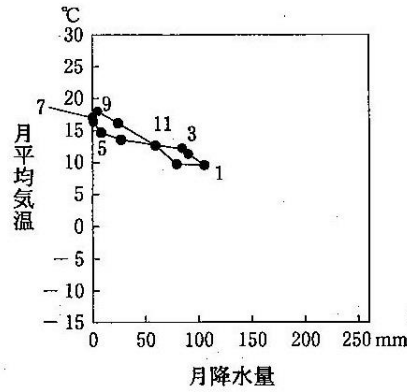


図 1

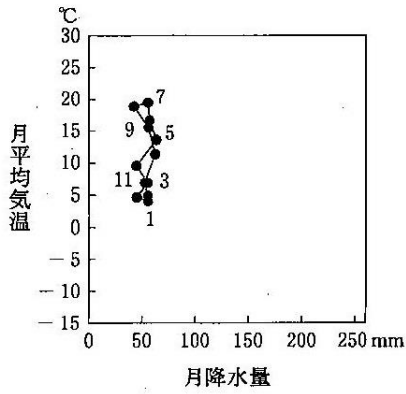
問 3 次の図 3 中の①～④は、図 1 中のサンフランシスコ、パリ、プサン(釜山)、モントリオールのいずれかの地点における月平均気温と月降水量をハイサーグラフで示したものである。サンフランシスコに該当するものを、図 3 中の①～④のうちから一つ選べ。 3



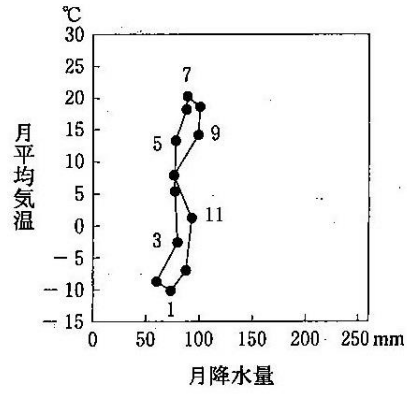
①



②



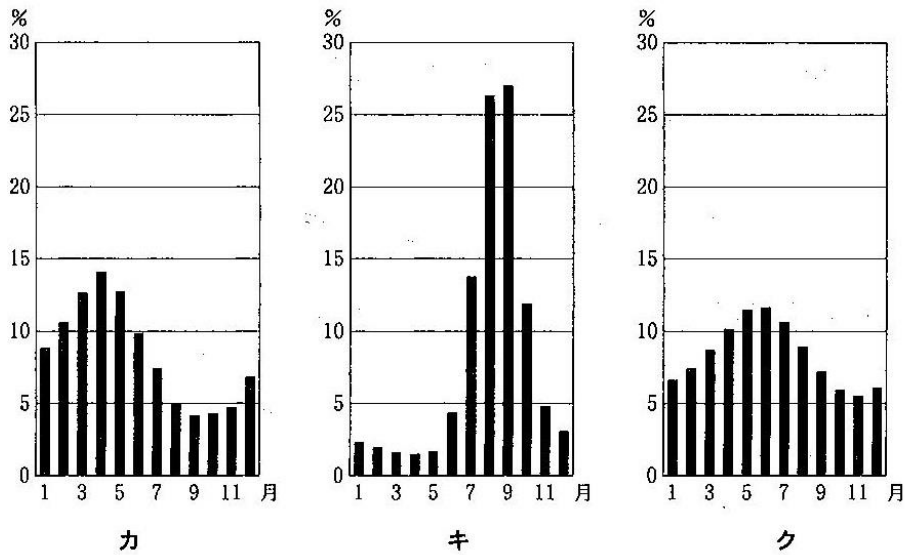
③



④

問 4 次の図 4 中のカ～クは、図 1 中の K～M のいずれかの地点における河川の月平均流量の年変化\*を示したものである。カ～クと K～M との正しい組合せを、下の①～⑥のうちから一つ選べ。 4

\*各月の月平均流量を 1 年間合計すると 100 % になるように作成してある。



River Discharge Database により作成。

図 4

	①	②	③	④	⑤	⑥
カ	K	K	L	L	M	M
キ	L	M	K	M	K	L
ク	M	L	M	K	L	K