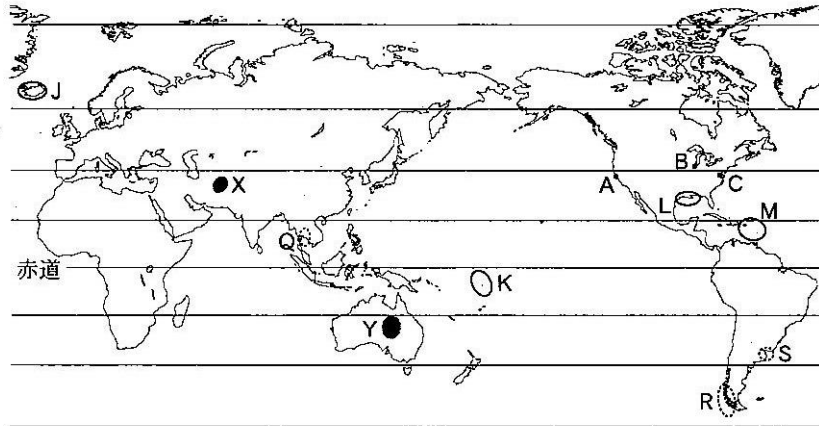


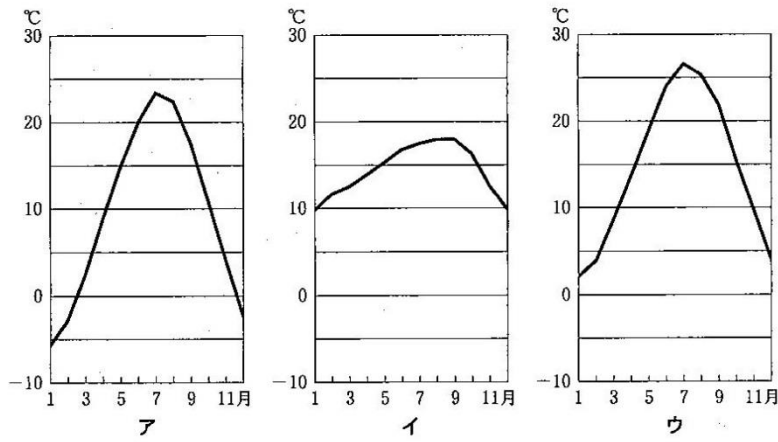
2013年度 第1問 問2



緯線は20度間隔。

図 2

問3 次の図3中のア～ウは、図2中のA～Cのいずれかの地点における月平均気温を示している。ア～ウとA～Cとの正しい組合せを、下の①～⑥のうちから一つ選べ。

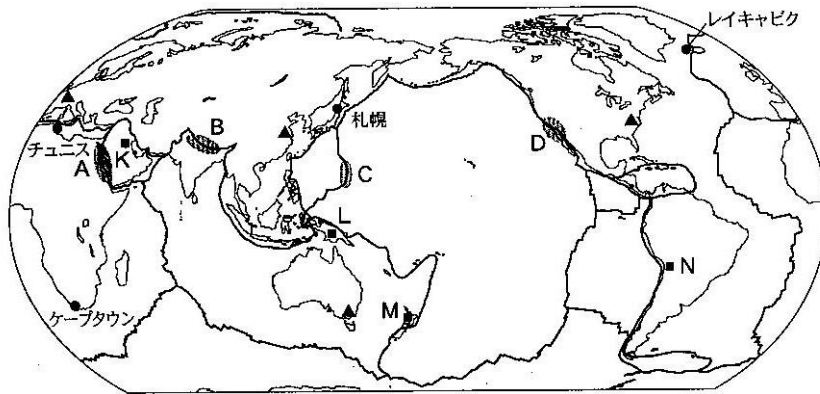


『理科年表』により作成。

図 3

	①	②	③	④	⑤	⑥
ア	A	A	B	B	C	C
イ	B	C	A	C	A	B
ウ	C	B	C	A	B	A

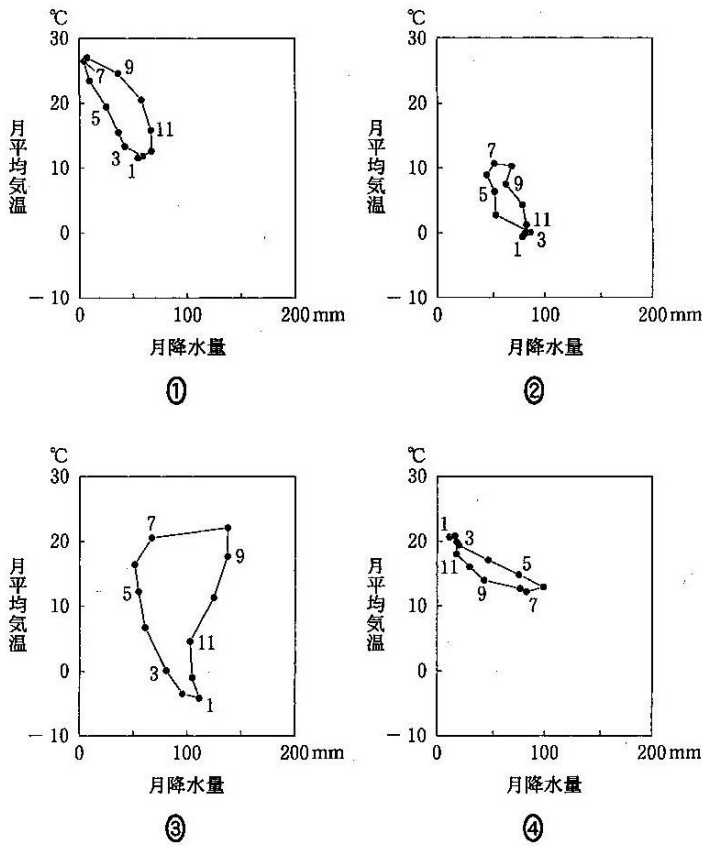
2012年度 第1問 問2



United States Geological Survey の資料などにより作成。

図 1

問 2 次の図2中の①～④は、図1中のケープタウン、札幌、チュニス、レイキャビクのいずれかの都市の月平均気温と月降水量をハイサーグラフで示したものである。レイキャビクに該当するものを、図2中の①～④のうちから一つ選べ。 2



『理科年表』により作成。

図 2